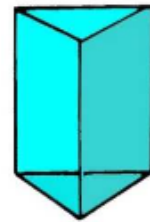
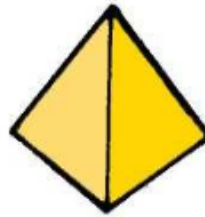







Rätsel des Monats Februar 2019

Unvollständig

Petra beschäftigt sich heute mit geometrischen Körpern. Sie zerschneidet vier Körper entlang ausgewählter Kanten: einen Würfel, einen Quader, eine quadratische Pyramide und ein dreiseitiges Prisma.



Anschließend schneidet sie bei jedem Netz genau eine Fläche ab, so dass die folgenden vier unvollständigen Netze entstehen:



Welche Fläche fehlt pro Netz und wo könntest du diese wieder ankleben?
Zeichne (auf einem Extrablatt) jeweils **alle** Möglichkeiten.

Viel Spaß beim Knobeln!

Abgabe bis zum 07.03.2019
bei Frau Kriks oder eurem Mathelehrer.